

Löse die Aufgaben und erhalte so dein Lösungswort!

Jeder Antwortmöglichkeit ist ein blauer Lösungsbuchstabe zugeordnet. Diese ergeben am Ende das Lösungswort.

Viel Spaß beim Rätseln!

Aufgabe 1:

Du beginnst vor dem Haupteingang der St. Franziskus Kirche neben dem Spielplatz an der Alb.

Welche Tiere sind auf dem Torbogen über den Türen abgebildet?

a) Schafe und Hühner (A)

b) Mäuse und Katzen (T)

c) Fische und Tauben (S)



Aufgabe 2:


Laufe nun am Albspielplatz vorbei über die Brücke. Gehe geradeaus über die Kreuzung auf die Belchenstraße. Gehe so lange geradeaus, bis du auf der rechten Seite die Friedenskirche entdecken kannst. Gehe zur Kirche. Gehe um die Kirche herum.

Wie viele Türen kannst du erkennen?

a) 3 (L)

b) 1 (O)

c) 5 (S)



Aufgabe 3:



Suche nun den Evangelischen Kita Friedensnest. Sie ist ganz in der Nähe.

Welche Gruppe gibt es neben der Storchengruppe noch in der Kita?

a) Entengruppe (E)

b) Rabengruppe (U)

c) Adlergruppe (P)

Aufgabe 4:

Suche nun ein weißes Haus mit blauen Umrandungen, welches Regenbogen auf den Schaufensterscheiben hat. Biege hier in die Feldbergstraße ein. Suche den Frisörsalon Famous Cut'n Colour.

Welche Farbe hat die Schere auf der Türe?

a) Grün (C)

b) Gelb (H)

c) Rot (I)



Aufgabe 5:

Gehe weiter geradeaus, entlang der Feldbergstraße. Suche einen Spielplatz, der genauso heißt, wie die Straße in der du läufst.

Wie viele Holzsprossen hat die Hängebrücke auf dem Spielplatz?

a) 18 (O)

b) 23 (H)

c) 29 (P)





Aufgabe 6:

Gehe nun bis zu den Bahnschienen und biege dann links ab. Suche die Hausnummer 34.

Welche Farbe hat das kleine Haus zwischen der Hausnummer 34 und 35?

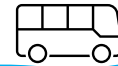
- a) Blau (K)
- b) Rot (H)
- c) Gelb (M)

Aufgabe 7:

Finde die Bushaltestelle ganz in der Nähe.

Wie ist ihr Name?

- a) Nürnberger Straße (N)
- b) Belchenplatz (A)
- c) Neckarplatz (J)



Aufgabe 8:

Gehe an der Bushaltestelle vorbei und biege nun in den Scheibenhardter Weg ab.

Welche Schule befindet sich nicht auf dem Weg?

- a) Albschule (D)
- b) Weiherwald Grundschule (L)
- c) Drais Grundschule (C)



Aufgabe 9.

Biege links ab, bevor das Feld beginnt (Wehrastraße).

Wie viele Laternen stehen an der Wehrastraße, bis zum rechten Wegabzweig?

- a) 11 (F)
- b) 15 (S)
- c) 8 (W)

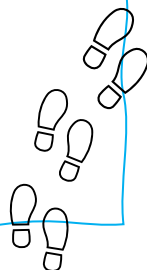


Aufgabe 10:

Biege beim ersten rechten Wegabzweig ab, bevor die Straße den Straßennamen wechselt. Bevor du den Fluss überquerst biegest du links ab. Folge nun dem Fluss, bis du 2 Tore auf einer Wiese siehst.

Wie viele Schritte sind die Tore ungefähr auseinander?

- a) 346 (E)
- b) 64 (S)
- c) 19 (N)



Aufgabe 11:

Versuche nun ans andere Ufer des Flusses zum Spielplatz an der Alb zu gelangen.

Was ist der höchste Gegenstand auf dem Spielplatz?

- a) Hüttchen an der Rutsche (O)
- b) Schiffsmast (K)
- c) Windrad (U)



Trage hier dein Lösungswort ein:

Aufgabe 1 ____

Aufgabe 8 ____

Aufgabe 5 ____

Aufgabe 2 ____

Aufgabe 7 ____

Aufgabe 3 ____

Aufgabe 9 ____

Aufgabe 11 ____

Aufgabe 4 ____

Aufgabe 6 ____

Aufgabe 10 ____

Du möchtest wissen, ob dein Lösungswort richtig ist? Schicke jetzt eine Mail mit deinem Vornamen an Laura.guelich@post-suedstadtka.de und erhalte eine kleine Urkunde, wenn das Lösungswort korrekt ist!

Viel Erfolg!